

தரம் :03 Grade :03	மூன்றாம் தவணைப் பரீட்சை – 2022/2023 Third Term Test – 2022/2023	புள்ளிகள் <input type="text"/>
சுட்டெண்:	சுற்றாடல்சார் செயற்பாடு	1.30 மணித்தியாலம்

1. மிகச் சரியான விடையின் கீழ் கோடிடுக.

- தேசிய கீதம் பாடும் போது நிற்க வேண்டிய விதம்.
  - தலை குனிந்து நின்றல்.
  - இலகுவாக நின்றல்.
  - கவனமாக நின்றல்.
- பின்வருவனவற்றுள் கிளை இல்லாத தாவரம்.
  - மா மரம்.
  - தென்னை மரம்.
  - பலா மரம்.
- எல்லா வயதினருக்கும் மிக அவசியமான உணவு வேளை எது.
  - காலை உணவு.
  - பகல் உணவு.
  - இரவு உணவு.
- பின் வருவனவற்றுள் தொற்று நோய் எது.
  - நீரிழிவு.
  - புற்றுநோய்.
  - வைரஸ் காய்ச்சல்.
- நீரை உறிஞ்சும் பொருள்.
  - சீனி.
  - செங்கல்.
  - ரெஜிபோம்.
- வேடுவர்களின் அடையாளச் சின்னம் எது.
  - கோடரி.
  - மண்வெட்டி.
  - கத்தி.
- கட்புல, செவிப்புல சாதனம் எது.
  - வானெலி.
  - தொலைக் காட்சி.
  - கடிதம்.
- சூழல் சுத்தம் இன்மையால் பெருகும் பிராணி.
  - வெட்டுக் கிளி.
  - வண்ணத்துப் பூச்சி.
  - இலையான் (ஈ).
- வானில் தோன்றும் அதிசயம் ஒன்று.
  - வானவில்.
  - சந்திரன்.
  - சூரியன்.
- “பாலைவனக் கப்பல்” என அழைக்கப்படும் பிராணி.
  - குதிரை.
  - யானை.
  - ஒட்டகம்.

2. பொருத்தமான சொல்லைத் தெரிவு செய்து இடைவெளி நிரப்புக.

சுதந்திரதினம், ஊசி ஒளித்தல், கறையான், வியர்வை, பிளாஸ்டிக், வாழைப்பூ

1. உக்காத பொருட்களில் \_\_\_\_\_கும் ஒன்றாகும்.
2. ஒவ்வொரு வருடமும் பெப்ரவரி 4 ஆம் திகதி \_\_\_\_\_ கொண்டாடப்படும்.
3. \_\_\_\_\_ சமைப்பதற்குப் பயன்படும்.
4. மண்புற்றினை அமைக்கும் ஆற்றல் கொண்ட பிராணி \_\_\_\_\_ ஆகும்.
5. \_\_\_\_\_ ஒரு கிராமிய விளையாட்டாகும்.
6. காற்றின் மூலம் எமது உடலிலுள்ள \_\_\_\_\_ உலர்கின்றது.

( 12 புள்ளிகள் )

3. இணைக்குக.

- |                           |                       |
|---------------------------|-----------------------|
| 1. பஸ் வண்டி.             | 1. முட்டை, பால்.      |
| 2. பொதி செய்த உணவு.       | 2. பந்தூரிகை.         |
| 3. புரத உணவு.             | 3. வண்ணத்துப் பூச்சி. |
| 4. தனியாக பயன்படுத்துவது. | 4. 6 சில்லுகள்.       |
| 5. நல்ல மாணவன்.           | 5. காலாவதித் தித்தி.  |

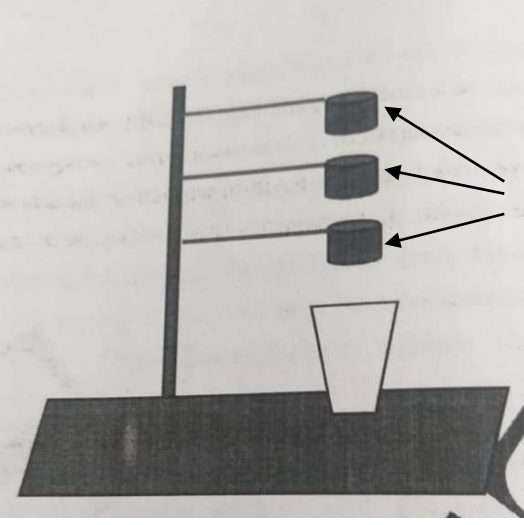
( 10 புள்ளிகள் )

4. சரியாயின் ( ✓ ) எனவும் பிழையாயின் ( X ) எனவும் அடையாளமிடுக.

1. கழிவுப் பொருட்களை மீள்சுழற்சிக்கு உட்படுத்தி புதிய பொருளொன்றை ஆக்க முடியும். ( )
2. சுய சுத்தம் பேணுவதால் எமக்குப் பல நோய்கள் ஏற்படும். ( )
3. சந்திரனை சில நேரங்களில் பகல் வானிலும் காண முடியும். ( )
4. எமக்கு விருப்பமில்லாதவை சிலருக்கு விருப்பமுள்ளவையாக இருக்கலாம். ( )
5. கார் நேர சூசிப்படி பயணிக்கும் வாகனம் ஆகும். ( )
6. பாசிப்பயறு மிக விரைவாக முளைக்கும் வித்தாகும் ( )

( 12 புள்ளிகள் )

5. இப் படத்தைப் பார்த்து வினாக்களுக்கு விடை தருக.



1. இவ் உபகரணத்தின் பெயர் யாது.

.....

2. இதன் பயன்பாட்டை எழுதுக.

.....

.....

3. அம்புக் குறியிடப்பட்ட பொருட்களின் பெயரை எழுதுக.


.....

(6 புள்ளிகள் )


6. பின்வரும் உருக்களின் பெயரை எழுதுக.



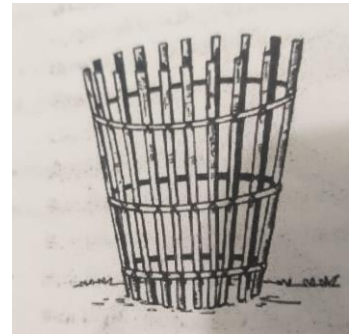
\_\_\_\_\_



\_\_\_\_\_



\_\_\_\_\_



\_\_\_\_\_



## 7. விடை எழுதுக.

1. உக்கும் பொருட்கள் இரண்டு எழுதுக.

.....

2. தேசியக் கொடி ஏற்றப்படும் சந்தர்ப்பங்கள் இரண்டு எழுதுக.

.....

3. மனிதனுக்கு நோயை ஏற்படுத்தும் பிராணிகள் இரண்டு எழுதுக.

.....

4. உடலை நோயிலிருந்து பாதுகாக்கும் உணவுகள் இரண்டு தருக.

.....

5. வீட்டில் உள்ள அனைவரும் பொதுவாக பயன்படுத்தும் பொருட்கள் இரண்டு தருக.

.....

6. இயற்கை விபத்துக்கள் இரண்டு தருக.

.....

7. எளிய பொறிகள் இரண்டு தருக.

.....

8. வீட்டுத் தோட்டச் செய்கைக்கு உதவும் உபகரணங்கள் இரண்டு தருக.

.....

9. மின் ஊடகங்கள் இரண்டு தருக.

.....

10. இரவு வானில் காண்பவை இரண்டு தருக.

.....

(30 புள்ளிகள்)