	<b>கழு/கழு/ அரசினர் முஸ்லிம் கலவன் பாடசாலை</b> <b>சாய்ந்தமருது</b>	<b>தரம்</b> <b>3</b>
	<b>நிலையறிப் பரீட்சை – 2023 (2023-04-10)</b>	
சுட்டெண் / மாணவர் பெயர் : _____		நேரம் : 1.15 மணி

எல்லா வினாக்களுக்கும் விடை எழுதுக.

01. தரப்பட்ட பந்தியை வாசித்து வினாக்களுக்கான விடைகளை பந்தியிலிருந்து தெரிவுசெய்து எழுதுக.

கண்ணன் இரண்டாம் வகுப்பில் படிக்கிறான். அவன் வீடு கடற்கரை வீதியில் உள்ளது. அவனது வீட்டில் அம்மா, அப்பா, அண்ணன், அக்கா, தம்பி, தங்கை, தாத்தா, பாட்டி ஆகியோர் உள்ளனர். அவன் எல்லோரிடமும் அன்பாக இருப்பான்.

1. கண்ணன் எத்தனையாம் வகுப்பில் படிக்கிறான்?

\_\_\_\_\_

2. அவனது வீடு எவ்வீதியில் அமைந்துள்ளது?

\_\_\_\_\_

3. கண்ணனுக்கு எத்தனை சகோதரர்கள் உள்ளனர்?

\_\_\_\_\_

4. பந்தியில் இடம் பெற்றுள்ள நிறுத்தற்குறிகள் இரண்டின் பெயரை எழுதுக.

1. \_\_\_\_\_ 2. \_\_\_\_\_

5. ஒத்த கருத்துச் சொற்கள் எழுதுக.

1. தெரு : \_\_\_\_\_ 2. இல்லம் : \_\_\_\_\_

6. கண்ணன் இரண்டாம் வகுப்பில் படிக்கிறான். என்ற வாக்கியத்தை முடிக்கும் வினைச் சொல் எது?

\_\_\_\_\_

(6 X 2 = 12 புள்ளிகள்)

02. சரியாக எழுதப்பட்ட சொல்லின் கீழ்க் கோடிடுக.

- |                |             |               |
|----------------|-------------|---------------|
| 1. குலவி       | 2. குளவி    | 3. குழவி      |
| 2. சண்ட்டை     | 2. சன்டை    | 3. சண்டை      |
| 3. 1. தந்திரம் | 2. தந்திறம் | 3. தந்த்திறம் |

(1 X 3 = 3 புள்ளிகள்)

03. சொற்களை ஒழுங்குபடுத்தி வாக்கியமாக எழுதுக.

1. தேடு / ஓடியும் / திரைக்கடல் / திரவியம்

2. ஓடியது / துள்ளிப் / முயல் / பாய்ந்து

(2 X 2 = 4 புள்ளிகள்)

04. பின்வரும் வாக்கியங்களுக்குப் பொருத்தமான நிறுத்தற் குறிகள் இடுக.

1. நரி யாரை வீட்டிற்கு அழைத்தது
2. மீன் நீரில் நீந்தியது
3. நான் பென்சில் அழிற்ப்பர் அடிமட்டம் என்பன வாங்கினேன்

(3 X 2 = 6 புள்ளிகள்)

05. ஒத்த கருத்துச் சொற்களை எழுதுக.

1. நிலா : \_\_\_\_\_
2. கனி : \_\_\_\_\_

எதிர்க்கருத்துச் சொற்களை எழுதுக.

1. மேடு : \_\_\_\_\_
2. அழு : \_\_\_\_\_


(4 X 1 = 4 புள்ளிகள்)

06. இடைவெளி நிரப்புக.

1. பூனை சீறும் என்பது போல புலி \_\_\_\_\_
2. கிட்டாதாயின் \_\_\_\_\_ மற
3. கையளவு உடம்புக்காரன் காவலுக்கு \_\_\_\_\_ அவன் யார்?

(1 X 3 = 3 புள்ளிகள்)

07. பின்வரும் படங்களுக்குரிய ஆங்கிலச் சொற்களை எழுதுக.



K \_\_\_\_\_



B \_\_\_\_\_

(2 X 1 = 2 புள்ளிகள்)

08. 1. அடி கோதுவ எனும் சிங்களச் சொல்லுக்குரிய தமிழ்ச் சொல்லை எழுதுக.

2. பின்வரும் வாக்கியம் சிங்களத்தில் சொல்லப்படும் விதத்தை தமிழில் எழுதுக.  
வானம் நீலம் நிறம் . \_\_\_\_\_

(2 X 1 = 2 புள்ளிகள்)

09. 84 என்ற எண்ணை எண் பெயரில் எழுதுக.

\_\_\_\_\_

10. எண்கோலத்திற்கேற்ப இடைவெளியில் வர வேண்டிய எண்களை எழுதுக.

8 , \_\_\_\_\_ , 12, 14 , \_\_\_\_\_ , 18


11. பின்வரும் எண் பெயர்களில் எண் குறிகளை எழுதுக.

1. தொண்ணூற்றொன்று \_\_\_\_\_
2. நாற்பத்து நான்கு \_\_\_\_\_

12. மிகச்சிறிய எண்ணிலிருந்து பெரிய எண் வரை வரிசைப்படுத்துக.

75, 49, 58 \_\_\_\_\_

13




1. கோல்கள், குற்றிகளால் குறிக்கப்படும் எண் யாது? \_\_\_\_\_

2. கட்டமிடப்பட்ட கோல்களின் பெறுமானம் யாது? \_\_\_\_\_

14.. குமாரிடம் 10 இனிப்புக்களும் கமலிடம் 4 இனிப்புக்களும் உள்ளன. எனவே, இருவரிடமும் உள்ள இனிப்புக்களின் மொத்த எண்ணிக்கை யாது? .....

15. கோலத்தை அவதானித்து அடுத்துவரும் உருவை இடைவெளியில் வரைக.





16. கணிதச் செய்கையை அவதானித்து வெற்றுக் கூண்டில் வரவேண்டிய எண்ணை எழுதுக.

I.  $\square + \square = 18$

II.  $8 - \square = 3$

17.  இவ்வுருவிலுள்ள முக்கோணிகளின் எண்ணிக்கை யாது? \_\_\_\_\_

18.  வாங்குவதற்கு ரூ. 4 தேவை எனின்,  தேவையான பணம் எவ்வளவு? வாங்குவதற்கு \_\_\_\_\_



19. சரியான கோவையை தெரிவு செய்க.

I.  $2 + 4 + 3 = 8$

II.  $4 - 2 + 7 = 9$

III.  $6 + 3 + 3 - 2 = 8$

20. பின்வரும் தளவடிவங்களின் பெயர்களை எழுதுக.



21. வாரத்தின் இறுதி நாள் என்ன? \_\_\_\_\_

சரியான விடையைத் தெரிவு செய்து அதன் கீழ்க் கோடிடுக.

1. பாடசாலையில் சட்டதிட்டங்களைப் பின்பற்றுவதால் கிடைப்பது,
  1. தண்டனை
  2. பாராட்டு
  3. கெட்ட பெயர்
2. அசுத்தமான நீரைப் பருகுவதால் ஏற்படும் நோய்களில் ஒன்று,
  1. யானைக்கால்
  2. நீரிழிவு
  3. மஞ்சட்காமாலை
3. புத்தாண்டு காலத்தில் சூழலில் அவதானிக்கக்கூடிய மாற்றங்களில் ஒன்று,
  1. குயில் கூவுதல்
  2. புதிய ஆடை அணிதல்
  3. குறிஞ்சி பூத்தல்
4. கடுமையான சூரிய ஒளி உடலில் படுவதால் ஏற்படும் நோய்,
  1. கண் நோய்
  2. தோல் நோய்
  3. யாவும் சரி
5. தண்ணீரிலே என் படகு - சலசலா  
தண்ணீரிலே என் படகு - சலசலா .....  
என்ற பாடல் பாடப்படும் தொழிலாளர்,
  1. கம்மாலைக்காரர்
  2. வயல் வேலைப்பாடல்
  3. மீனவர் பாடல்
6. உடனடி உணவு, பானங்களை உண்பதால் ஏற்படுவது,
  1. பசி
  2. மகிழ்ச்சி
  3. நோய்
7. காதுகளால் கேட்பதன் மூலம் மாத்திரம் தகவல் பெற உதவுத் சாதனம்



8. உக்கும் பொருட்களில் ஒன்று,
  1. யோகட் கோப்பை
  2. கண்ணாடித்துண்டு
  3. இரும்பு ஆணிகள்
9. இரவு வேளையில் சூழலில் காணக்கூடிய பிராணி அல்லாதது.



10. இவ்வுபகரணத்தைப் பயன்படுத்தும் தொழிலாளி
  1. கொத்தன்
  2. தச்சன்
  3. கொல்லன்



(10 X 2 = 20 புள்ளிகள்)

காட்சிப் படத்தை அவதானித்து நிகழ்காலத்தில் இரண்டு வாக்கியங்கள் எழுதுக.



1. \_\_\_\_\_
2. \_\_\_\_\_

(2 X 2.5 = 5 புள்ளிகள்)