










சிறிய உருவின் கீழ்க் கோடு வரையுங்கள்.



பெரிய உருவின் கீழ்க் கோடு வரையுங்கள்.



முன்னால் உள்ள வாகனத்தின் கீழ்க் கோடு வரையுங்கள்.















கடைசியாக ஓடும் பிராணியின் கீழ்க் கோடு வரையுங்கள்.



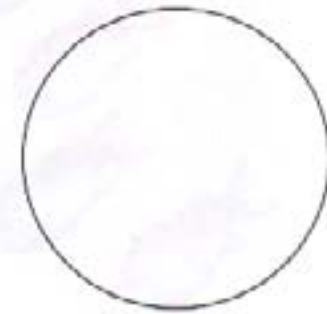
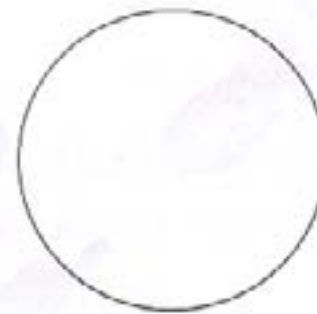



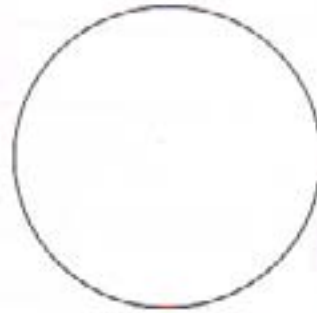

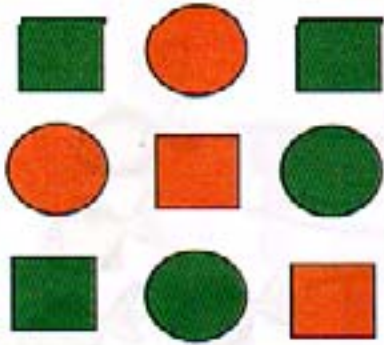
நடுவில் உள்ள பிராணியின் கீழ்க் கோடு வரையுங்கள்.



வேறுபடுத்தி வரையுங்கள். நிறந் தீட்டுங்கள்.





		
		
		
		

நிறங்களுக்கு ஏற்ப வேறுபடுத்தி வரையுங்கள்.
நிறந் தீட்டுங்கள்.



ஒன்றுடன் - ஒன்றை இணையுங்கள்.


கூடுதலாக உள்ள மீனின் கீழ்க் கோடு வரையுங்கள்.



கோடு கீறி ஒன்றுடன் - ஒன்றைப் பொருத்துங்கள்.





கோப்பைகளின் எண்ணிக்கைக்கு ஏற்ப கரண்டிகளின் எண்ணிக்கை உள்ளனவா?
ஆம் / இல்லை.




இணைத்துப் பாருங்கள். சிவப்பு பொம்மைகளின் எண்ணிக்கைக்கு ஏற்ப பச்சை பொம்மைகள் உள்ளனவா? ஆம் / இல்லை.

வடிவத்தில் வித்தியாசமான உருவத்தை நிறந் தீட்டுங்கள்.



ஒரே வடிவமாக உள்ள இலைகளை இணையுங்கள்.



ஒன்று



எழுத்துங்கள்.



இரண்டு



2



2




2

எழுதுங்கள்.

2	2	2	2	2	2	2	2
2	2	2	2				



2



மூன்று



3




3



3

எழுதுங்கள்.



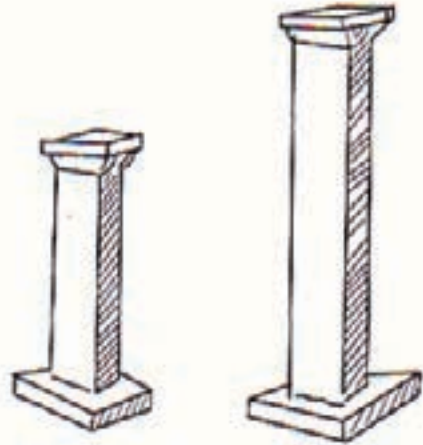
3	3	3	3	3	3	3	3
3	3	3	3				




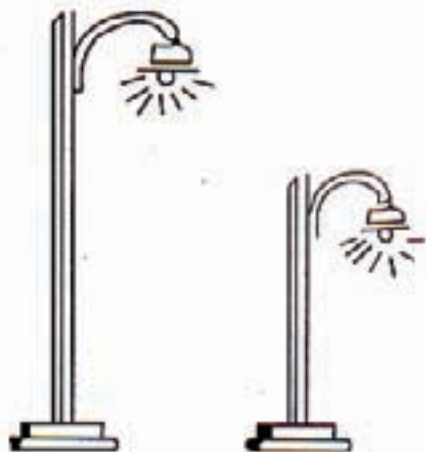

3



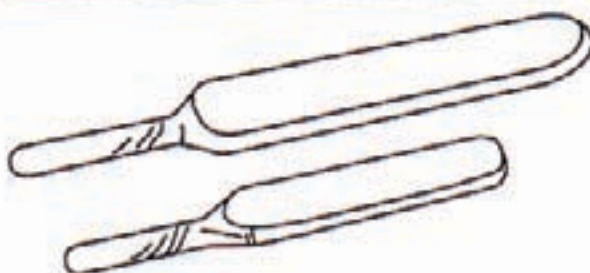
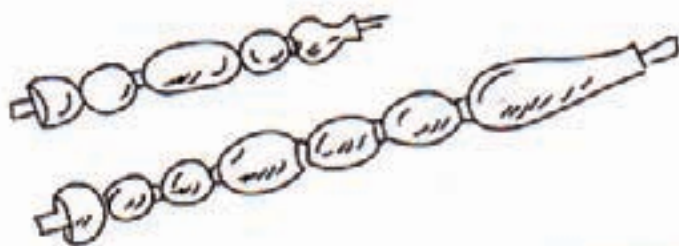
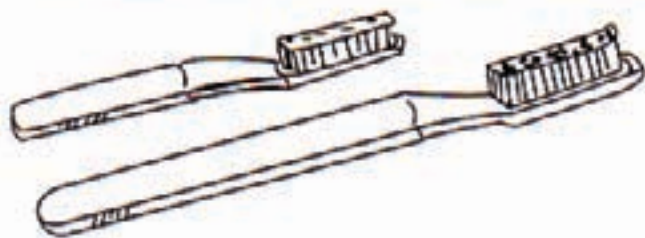

உயரம் கூடிய உருவை நிறந் தீட்டுங்கள்.



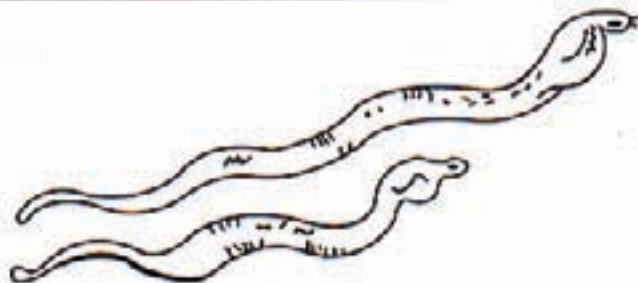




உயரம் குறைந்த உருவை நிறந் தீட்டுங்கள்.




நீளம் கூடிய உருவை நிறந் தீட்டுங்கள்.




நீளம் குறைந்த உருவை நிறந் தீட்டுங்கள்.



நான்கு



4



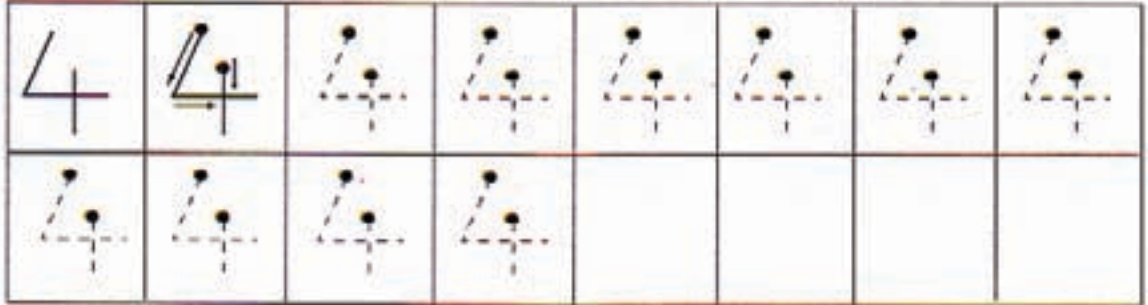


4




4

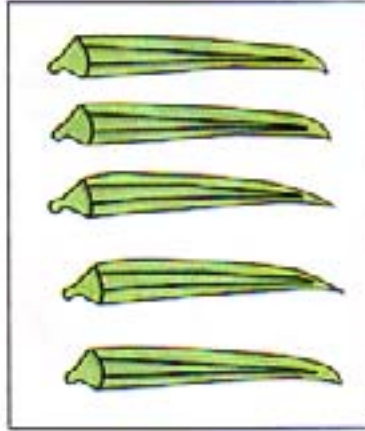
எழுதுங்கள்.




ஐந்து



5


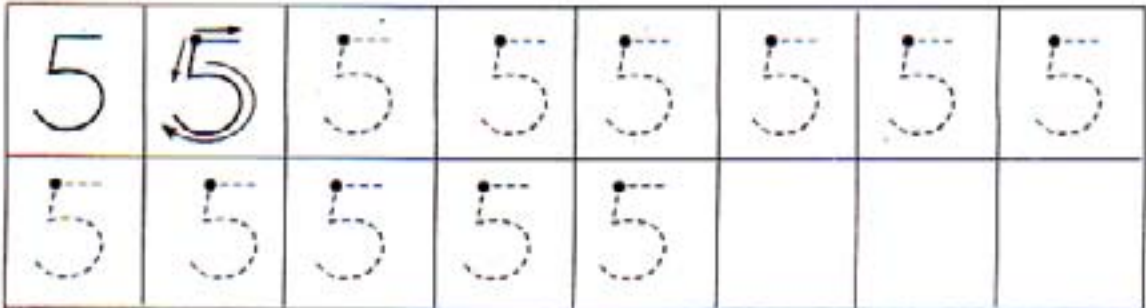


5





5






எழுதுங்கள்.








5



இலக்கத்திற்கு ஒத்த உருக்களை இணையுங்கள்.

1		
2		
3		
4		
5		

இலக்கத்திற்கு ஒத்த உருக்களை இணையுங்கள்.

3		
4		
1		
5		
2		


பொருத்தமான இலக்கத்தை எழுதுங்கள்.



1




இலக்கத்திற்குப் பொருத்தமான உருக்கள் வரையுங்கள்.



2




4



5

ஆறு



6




6



6

எழுதுங்கள்.



எண்ணுங்கள். எழுத்துக்களில் எழுதுங்கள்.



நான்கு
பூக்கள்



.....
மாம்பழங்கள்



.....
வாத்துக்கள்



.....
வண்ணத்துப்
பூச்சிகள்




.....
கார்கள்

எண்ணுங்கள். எழுத்துக்களில் எழுதுங்கள்.



.....
மாம்பழங்கள்



.....
கார்கள்

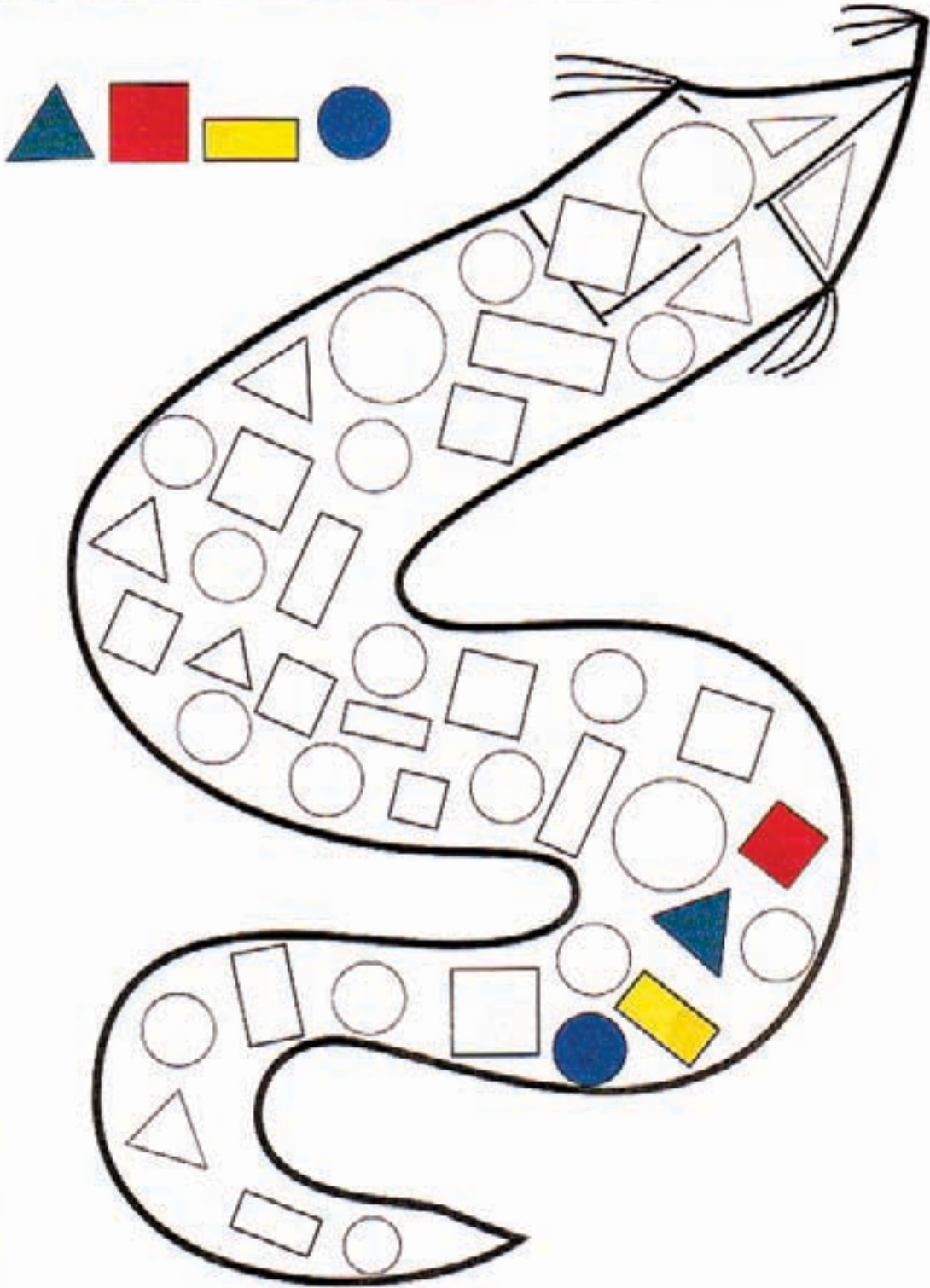


.....
அன்னாசிப்
பழங்கள்




.....
பலூன்கள்

வடிவங்களை நிறந் தீட்டுங்கள்.



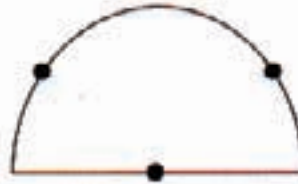
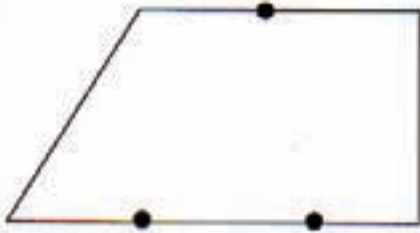

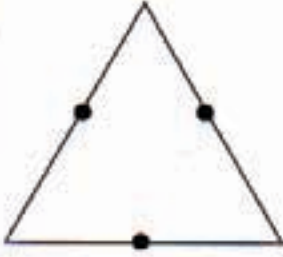


புள்ளிகளை இணைத்து வடிவத்தை வரையுங்கள்.
நிறந் தீட்டுங்கள்.



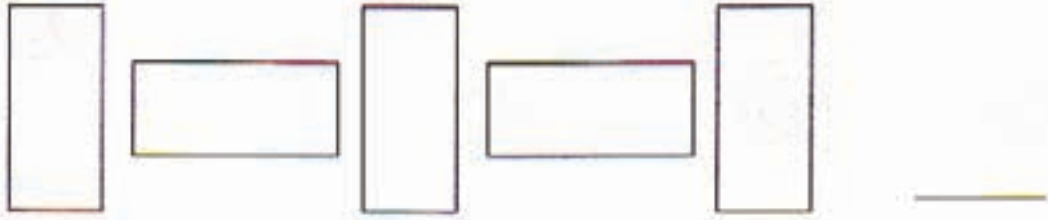
தரப்பட்ட புள்ளிகளை இணையுங்கள்.

பெறப்பட்ட வடிவங்களுக்கு நிறந் தீட்டுங்கள்.



கோலத்தில் அடுத்த உருவைக் காட்டுங்கள்.

கோலத்தில் அடுத்த உருவை வரையுங்கள்.



கோலத்தை இனங் கண்டு நிறந் தீட்டுங்கள்.



முதலாமவருக்குப் புள்ளடி இடுங்கள்.
நான்காமவரைச் சுற்றி வட்டம் வரையுங்கள்.
இரண்டாமவருக்கு சரி இடுங்கள்.



முதலாமவர் இரண்டாமவர் மூன்றாமவர் நான்காமவர் ஐந்தாமவர்

முதலாவதிற்குப் புள்ளடி இடுங்கள்.
நான்காவதைச் சுற்றி வட்டம் வரையுங்கள்.
இரண்டாவதிற்கு சரி இடுங்கள்.





அன்னம் எத்தனையாவது ?.....



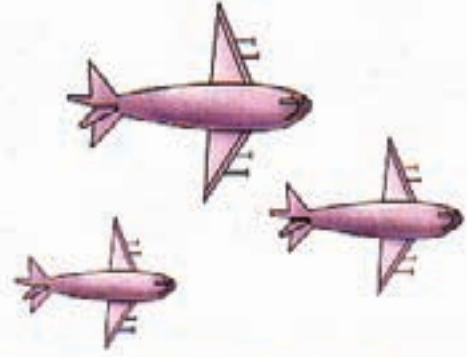
நான்காவது எது ?.....




இரண்டாவது வாகனத்திற்கு ✓ அடையாளம் இடுங்கள்.

நான்காவது வாகனத்திற்கு X அடையாளம் இடுங்கள்.

மிகச் சிறிய உருவின் கீழ்க் கோடு வரையுங்கள்.

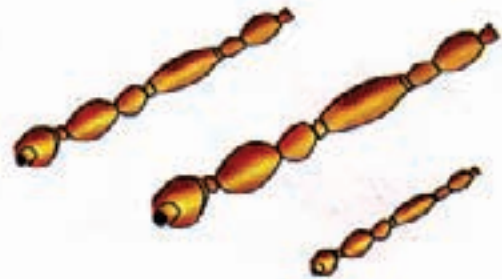




மிகப் பெரிய உருவின் கீழ்க் கோடு வரையுங்கள்.





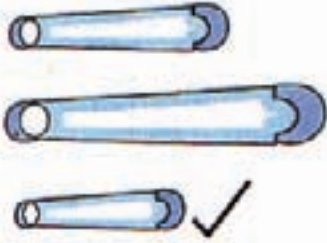


சு
சு
சு


மிக நீண்ட உருவிற்கு ✓ இடுங்கள்.




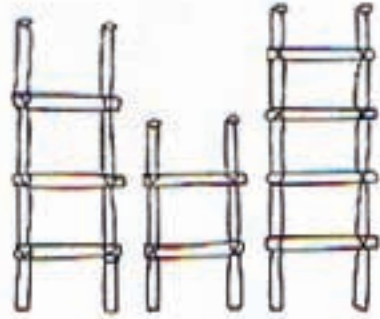
மிக்க குறுகிய உருவிற்கு ✓ இடுங்கள்.



















மிக உயரமான உருவை நிறந் தீட்டுங்கள்.




மிகக் கட்டையான உருவை நிறந் தீட்டுங்கள்.





மொத்தமாக எத்தனை?

 <p>2</p>  <p>3</p> <p>மொத்தமாக 5</p>	 <p>4</p>  <p>2</p> <p>மொத்தமாக 6</p>
 <p>1</p>  <p>2</p> <p>மொத்தமாக</p>	 <p>2</p>  <p>2</p> <p>மொத்தமாக</p>
 <p>3</p>  <p>2</p> <p>மொத்தமாக</p>	 <p>5</p>  <p>1</p> <p>மொத்தமாக</p>
 <p>3</p>  <p>3</p> <p>மொத்தமாக</p>	 <p>3</p>  <p>1</p> <p>மொத்தமாக</p>


ஏழு




எழுதுங்கள்.



எட்டு




எழுதுங்கள்.



ஒன்பது



எழுதுங்கள்.



விரும்பிய உருக்களை வரையுங்கள்.




4



7



6




9

பொருத்தமான இலக்கத்தை எழுதுங்கள்.



3



பொருத்தமான இலக்கத்தைச் சுற்றி வட்டம் வரையுங்கள்.



①

2

3



3

4

5



7

8

9



7

8


9



4

5

6



6

7

8



2

3

4



6

7

8


எண்ணுங்கள். எழுத்துக்களில் எழுதுங்கள்.



வெற்றிலைகள்









கொய்யாப்பழங்கள்



ஆமைகள்

✓ அடையாளம் இட்டு எண்ணுங்கள்.

நான்கு	
ஏழு	
பத்து	
பதின்மூன்று	
பதினெட்டு	
இருபது	

✓ அடையாளம் இட்டு எண்ணுங்கள்.
எழுத்துக்களில் எழுதுங்கள்.



குருவிகள்



நட்சத்திரங்கள்

ஒரு ரூபா நாணயங்களின் கீழ் கோடு வரையுங்கள்.



இரண்டு ரூபா நாணயங்களின் கீழ் கோடு வரையுங்கள்.



ஐந்து ரூபா நாணயங்களின் கீழ் கோடு வரையுங்கள்.



இணையுங்கள்.










இரண்டு ரூபா

ஐந்து ரூபா











ஒரு ரூபா



இலக்கங்களில் எழுதுங்கள்.

ஒன்று		
ஒன்பது		9
ஐந்து		
இரண்டு		
நான்கு		
எட்டு		
ஏழு		
மூன்று		
ஒன்பது		
ஆறு		

எழுத்துக்களில் எழுதுங்கள்.

2		இரண்டு
7		
3		
8		
4		
2		
1		
6		
9		
5		

இலக்கங்களில் எழுதுங்கள்.

இரண்டு	2
நான்கு	
மூன்று	
ஆறு	
எட்டு	

ஒன்று	
ஐந்து	
ஒன்பது	
ஏழு	
இரண்டு	

எழுத்துக்களில் எழுதுங்கள்.

3	மூன்று
2	
7	
9	
4	

1	
6	
3	
8	
5	

கூட்டுங்கள்.



இரண்டோடு மூன்றைக் கூட்டுகின்றேன். எல்லாமாக ஐந்து.

$$2 + 3 = \boxed{5}$$



$$2 + 1 = \boxed{}$$



$$5 + 2 = \boxed{}$$




$$2 + 2 = \boxed{}$$




$$4 + 3 = \boxed{}$$


கூட்டுங்கள்.




5 + 2 =




4 + 4 =




2 + 3 =




3 + 3 =




5 + 3 =




2 + 4 =




3 + 2 =



6 + 2 =













4 + 3 =

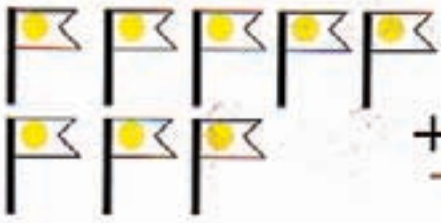











4 + 3 =

கூட்டுங்கள்.

 $\begin{array}{r} 3 \\ + 2 \\ \hline 5 \end{array}$	 $\begin{array}{r} 2 \\ + 3 \\ \hline \end{array}$
 $\begin{array}{r} 4 \\ + 3 \\ \hline \end{array}$	 $\begin{array}{r} 3 \\ + 4 \\ \hline \end{array}$
 $\begin{array}{r} 5 \\ + 2 \\ \hline \end{array}$	 $\begin{array}{r} 2 \\ + 5 \\ \hline \end{array}$
 $\begin{array}{r} 2 \\ + 2 \\ \hline \end{array}$	 $\begin{array}{r} 3 \\ + 3 \\ \hline \end{array}$
 $\begin{array}{r} 5 \\ + 4 \\ \hline \end{array}$	 $\begin{array}{r} 4 \\ + 4 \\ \hline \end{array}$

கூட்டுங்கள்.

 $\begin{array}{r} 5 \\ + 3 \\ \hline \\ \hline \end{array}$	 $\begin{array}{r} 4 \\ + 4 \\ \hline \\ \hline \end{array}$
 $\begin{array}{r} 2 \\ + 5 \\ \hline \\ \hline \end{array}$	 $\begin{array}{r} 5 \\ + 4 \\ \hline \\ \hline \end{array}$
 $\begin{array}{r} 4 \\ + 2 \\ \hline \\ \hline \end{array}$	 $\begin{array}{r} 2 \\ + 4 \\ \hline \\ \hline \end{array}$
 $\begin{array}{r} 5 \\ + 2 \\ \hline \\ \hline \end{array}$	 $\begin{array}{r} 3 \\ + 6 \\ \hline \\ \hline \end{array}$
 $\begin{array}{r} 3 \\ + 4 \\ \hline \\ \hline \end{array}$	 $\begin{array}{r} 4 \\ + 5 \\ \hline \\ \hline \end{array}$

கூட்டுங்கள்.

$$\begin{array}{r} 2 \\ + 1 \\ \hline \end{array}$$

$$\begin{array}{r} 3 \\ + 1 \\ \hline \end{array}$$

$$\begin{array}{r} 1 \\ + 2 \\ \hline \end{array}$$

$$\begin{array}{r} 1 \\ + 3 \\ \hline \end{array}$$

$$\begin{array}{r} 4 \\ + 2 \\ \hline \end{array}$$

$$\begin{array}{r} 2 \\ + 5 \\ \hline \end{array}$$

$$\begin{array}{r} 2 \\ + 2 \\ \hline \end{array}$$

$$\begin{array}{r} 5 \\ + 2 \\ \hline \end{array}$$

$$\begin{array}{r} 3 \\ + 4 \\ \hline \end{array}$$

$$\begin{array}{r} 3 \\ + 3 \\ \hline \end{array}$$

$$\begin{array}{r} 5 \\ + 3 \\ \hline \end{array}$$

$$\begin{array}{r} 1 \\ + 4 \\ \hline \end{array}$$

$$\begin{array}{r} 3 \\ + 5 \\ \hline \end{array}$$

$$\begin{array}{r} 3 \\ + 2 \\ \hline \end{array}$$

$$\begin{array}{r} 4 \\ + 3 \\ \hline \end{array}$$

$$\begin{array}{r} 3 \\ + 6 \\ \hline \end{array}$$

கூட்டுங்கள்.

$2 + 1 = \square$

$3 + 1 = \square$

$1 + 2 = \square$

$1 + 3 = \square$

$4 + 2 = \square$

$5 + 2 = \square$

$2 + 4 = \square$

$2 + 5 = \square$

$3 + 2 = \square$

$3 + 3 = \square$

$5 + 3 = \square$

$1 + 4 = \square$

$3 + 5 = \square$

$2 + 3 = \square$

$4 + 3 = \square$

$3 + 6 = \square$